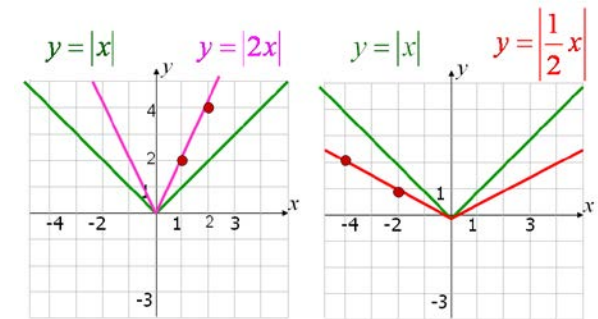
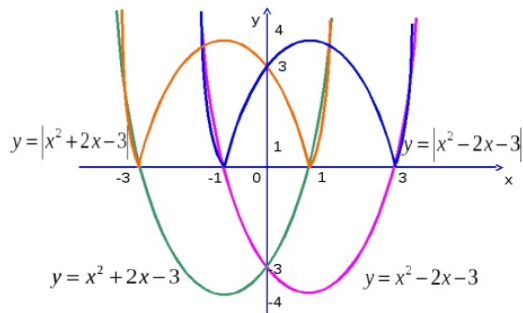




МИНИСТЕРСТВО ОБРАЗОВАНИЯ МОСКОВСКОЙ ОБЛАСТИ
ГОУ ВО МО «Государственный гуманитарно-технологический университет»
Промышленно-экономический колледж

Построить графики функций $y = |x^2 - 2x - 3|$ и $y = |x^2 + 2x - 3|$



Тема урока:

Понятие функции. График функции

Автор: **Савинова Лариса Николаевна**,
преподаватель математики ПЭК ГГТУ
г.о. Орехово-Зуево, Московская область,
Российская Федерация

Цель урока:

- ▶ Научиться вычислять частное значение функции, находить ее область определения и множество значений, строить график функции.
- ▶ Содействовать развитию математического мышления обучающихся.
- ▶ Побуждать студентов к преодолению трудностей в процессе умственной деятельности.
- ▶ Развивать культуру устной математической речи, чувство самоконтроля.

Знания и навыки студентов:

- ▶ знать понятие функции, правила нахождения области определения функции;
- ▶ уметь находить частное значение функции, ее область определения и множество значений, строить графики функций.

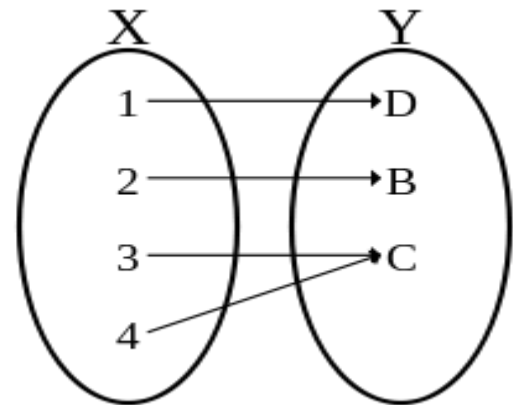
- ▶ При исследовании явлений окружающего мира и в практической деятельности нам приходится рассматривать величины различной природы: длину, площадь, объем, массу, температуру, время и другие. В зависимости от рассматриваемых условий одни из величин имеют постоянные числовые значения, у других эти значения переменные. Такие величины соответственно называются постоянными и переменными.
- ▶ Математика изучает зависимость между переменными в процессе их изменения. Например, при изменении радиуса круга меняется и его площадь, и мы рассматриваем вопрос об изменении площади круга в зависимости от изменения его радиуса.
- ▶ Математическим выражением взаимной связи реальных величин является идея функциональной зависимости.
- ▶ **Понятие функции – важнейшее понятие математики**

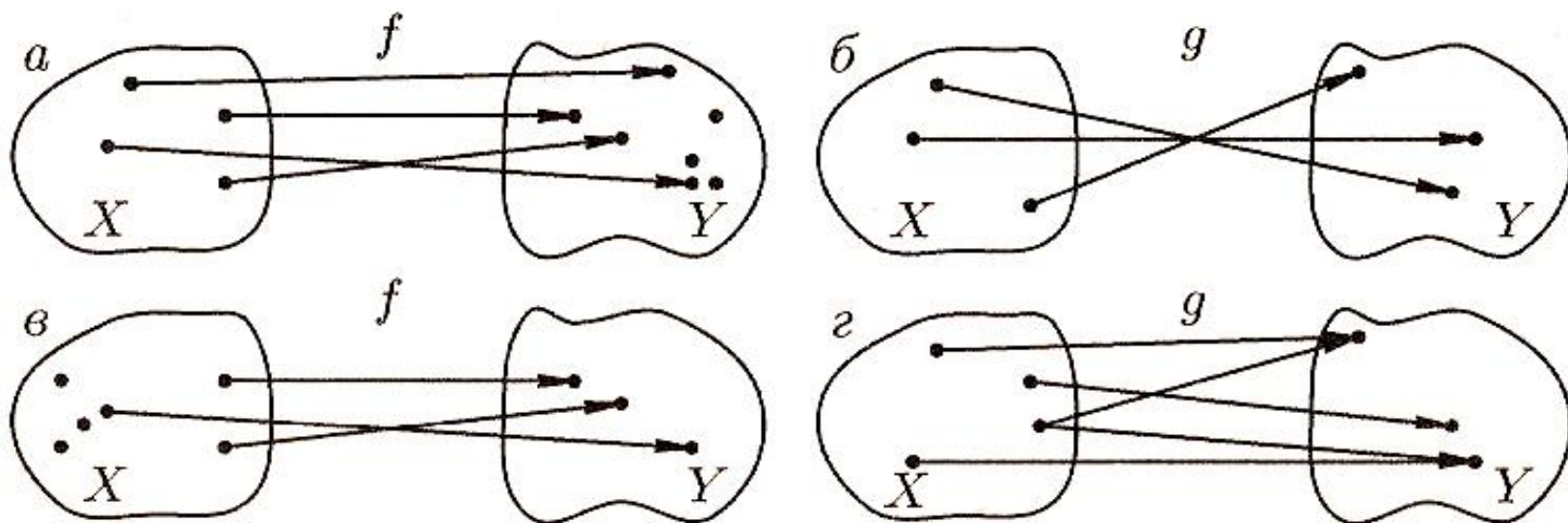
1. Понятие функции

- ▶ Слово “функция” (от латинского **function** – исполнение, осуществление) в математике впервые употреблено немецким математиком В.Г. Лейбницем.
- ▶ Пусть даны два непустых множества X и Y . Соответствие f , которое каждому элементу $x \in X$ сопоставляет один и только один элемент $y \in Y$ называется **функцией** и записывается

$$y = f(x), \quad x \in X \quad \text{или} \quad f : X \rightarrow Y.$$

- ▶ Говорят еще, что функция f **отображает** множество X на множество Y .





- ▶ Например, соответствия f и g , изображенные на рисунке 1 *a* и *б*, являются функциями, а на рисунке 1 *в* и *г* – нет, т.к. в случае *в* – не каждому элементу x соответствует элемент y , а в случае *г* – не соблюдается условие однозначности.
- ▶ Множество X – область определения функции f – $D(f)$, множество Y – множество значений функции f – $E(f)$.

2. Числовая функция, её частное значение

- ▶ Если элементами множеств X и Y являются действительные числа, то функцию f называют *числовой функцией* $y = f(x)$.
- ▶ *Числовой функцией* с областью определения D называется соответствие, при котором каждому числу x из множества D сопоставляется по некоторому правилу число y , зависящее от x .
- ▶ Переменная x называется *независимой переменной* или *аргументом*, а y – *зависимой переменной* (от x) или *функцией*.
- ▶ Относительно самих величин x и y говорят, что они находятся в *функциональной зависимости* и пишут

$$y = y(x)$$

- ▶ **Частное значение функции** $y = f(x)$ при заданном частном значении аргумента $x = a$ обозначают $f(a)$ или $y|_{x=a}$.
- ▶ **Пример 1.** Найти значение функции $f(x) = 2x^2 - 1$ при $x = 3$.
- ▶ **Решение.** $f(3) = y|_{x=3} = 2 \cdot 3^2 - 1 = 17$.
- ▶ **Пример 2.** Дано $F(x) = 3x^2$.
Найти $F(5), F(0,5), F(a)$.

3. Область определения и множество значений функции

- ▶ *Область определения функции* – совокупность всех действительных значений аргумента x , при которых функция определена и выражается действительным числом. Обозначается: $D(f)=X$.
- ▶ Множество чисел $y = f(x)$ объединяют в множество Y и называют *множеством значений функции*, т.е. $E(f) = Y$.

Примеры.

Найти область определения функций

1. $y = x^2$. $D(y) = R$ или $D(y) = (-\infty; +\infty)$.

Областью определения целой рациональной функции является множество всех действительных чисел.

2. $y = x^5 + 3x^2 - 10$. $D(y) = (-\infty; +\infty)$

При отыскании области определения дробной функции нужно исключить значения аргумента, при которых знаменатель обращается в нуль

$$3. \quad y = \frac{1}{x}.$$

Решение.

Знаменатель обращается в нуль при $x = 0$.

$$\Rightarrow D(y) = (-\infty; 0) \cup (0; \infty).$$

Решить самостоятельно:

$$4. \quad y = \frac{2}{1-x}; \quad 5. \quad y = \frac{3}{x-4}; \quad 6. \quad y = \frac{1}{2x-5}.$$

$$7. \quad y = \frac{3}{x^2 - 4}.$$

Решение.

Знаменатель обращается в нуль при $x = \pm 2$.

$$\Rightarrow D(y) = (-\infty; -2) \cup (-2; 2) \cup (2; \infty).$$

$$8. \quad y = \frac{2}{1 - x^2}; \quad 9. \quad y = \frac{x + 2}{x^2 - 5x + 6}.$$

При отыскании области определения функции, содержащей корень четной степени, нужно исключить значения аргумента, при которых подкоренное выражение принимает отрицательные значения.

$$10. \quad y = \sqrt{x-1}.$$

Решение.

$$x-1 \geq 0 \quad \Rightarrow \quad x \geq 1.$$

$$\Rightarrow D(y) = [1; \infty).$$

Решить самостоятельно:

$$11. \quad y = \sqrt{2x-4}; \quad 12. \quad y = \sqrt{x^2-1}.$$

При отыскании области определения логарифмической функции нужно исключить значения аргумента, при которых подлогарифмическое выражение принимает отрицательные значения и равно нулю.

$$13. \quad y = \lg(x - 2).$$

Решение.

$$x - 2 > 0 \quad \Rightarrow \quad x > 2.$$

$$\Rightarrow D(y) = (2; \infty)$$

Решить самостоятельно:

$$14. \quad y = \lg(2x - 3); \quad 15. \quad y = \log_3(x^2 - 9).$$

4. Способы задания функции

- ▶ Функция считается *заданной*, если известна область определения функции и указано правило, по которому для каждого значения аргумента можно найти соответствующее значение функции.
- ▶ Существуют следующие способы задания функции:
 1. **Аналитический** – зависимость между аргументом x и функцией y задается в виде математической формулы или уравнения. Например, $y = \frac{2x^3 - 5}{x + 1}$.

Наиболее совершенный способ в математике, единственный недостаток – отсутствие наглядности.

Например:

- ▶ Формулой $S(r) = \pi r^2$ задается функция зависимости площади круга от радиуса.
- ▶ Функция $^{\circ}\text{F}$ ($^{\circ}\text{C}$) определяет перевод температуры из градусов Цельсия в градусы Фаренгейта: $^{\circ}\text{F} = \frac{9}{5}^{\circ}\text{C} + 32$.
- ▶ Если деньги положены в банк под p процентов годовых, а сумма, положенная в банк изначально, равна S_0 , то через n лет в банке будет $S(n) = S_0 \left(1 + \frac{p}{100}\right)^n$ – функция от количества лет, на которые положены средства. Эта формула сложных процентов.
- ▶ При равномерном движении скорость тела является функцией времени: $s(t) = v \cdot t$.
- ▶ Функция $x(t) = A \cos(\omega t + \varphi)$ задает гармонические колебания. Здесь A – амплитуда колебаний, ω – круговая частота, φ – начальная фаза.
- ▶ Функция $m(t) = m_0 \cdot 2^{-\frac{t}{T}}$ называется формулой радиоактивного распада.

2. **Табличный** – значения аргумента и соответствующие им значения функции записаны в виде таблицы. Используется на практике для записи результатов наблюдений и измерений.

Так, значения квадратов, кубов, логарифмов чисел, тригонометрических функций и т.д. находят с помощью математических таблиц.

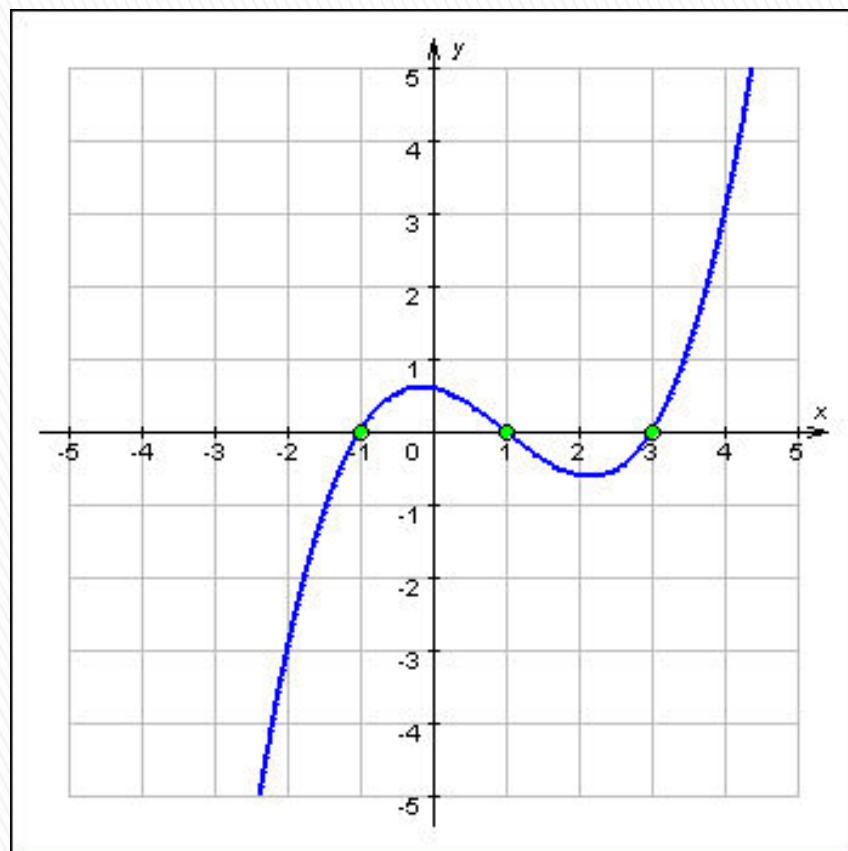
Например, изменение температуры тела больного в зависимости от времени приведены в таблице:

Температура, °С	36,5	36,8	37,5	38,2
Время суток, час	10	12	14	16

3. *Графический* - задается график функции.

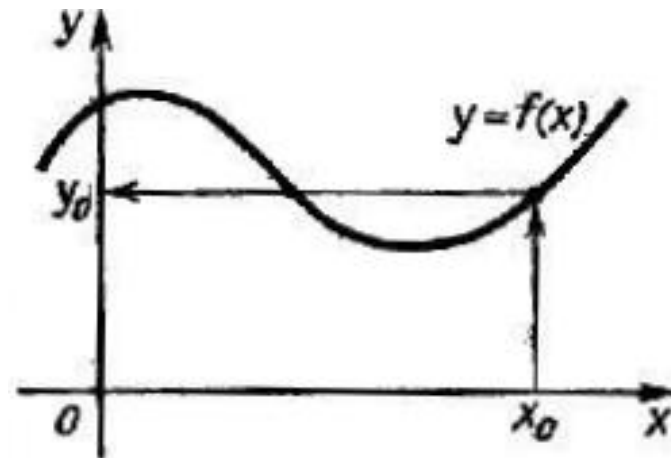

Графиком функции $y = f(x)$ называется множество всех точек координатной плоскости $M(x; f(x))$.

Значения функции y , соответствующие значениям аргумента x , непосредственно находятся из этого графика. Преимуществом графического задания является его наглядность, недостатком - неточность.



Обратить внимание

- ▶ Подмножество координатной плоскости является графиком какой-либо функции, если оно **имеет не более одной** общей точки с любой прямой, параллельной оси OY . Например, множество, изображенное на рисунке слева не является графиком функции, так как оно содержит две точки с одной и той же абсциссой a , но разными ординатами b_1 и b_2 .
- ▶ Графический способ задания зачастую удобен по сравнению с аналитическим, так как по графику сразу видно что из себя представляет функция и можно проанализировать ее поведение.



▶ **4. Словесный способ** — состоит в том, что функциональная зависимость выражается словами.

▶ *Пример 1:* функция $E(x)$ — целая часть числа x , т.е.

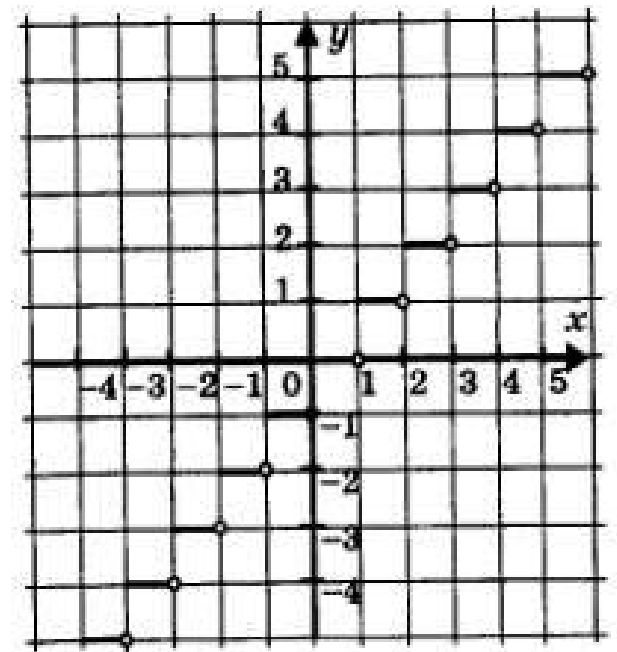
$E(x) = [x]$ - наибольшее из целых чисел, которое не превышает x . Иными словами, если $x = r + q$, где r — целое число и q принадлежит интервалу $[0; 1)$, то $[x] = r$.
Функция $E(x) = [x]$ постоянна на промежутке $[r; r+1)$ и на нем $[x] = r$.

▶ Например, $[2,534] = 2$,

$[47] = 47$,

$[-0,(23)] = -1$.

Очень своеобразно выглядит график функции $y = [x]$



- ▶ *Пример 2:* функция $y = \{x\}$ — дробная часть числа, т.е.

$y = \{x\} = x - [x]$, где $[x]$ — целая часть числа x .

Или $\{x\} = r + q - r = q$

- ▶ Основными недостатками словесного способа задания функции являются невозможность вычисления значений функции при произвольном значении аргумента и отсутствие наглядности.
- ▶ Главное преимущество же заключается в возможности задания тех функций, которые не удастся выразить аналитически.

Задание

1. Указать область определения и область значений таблично заданной функции:

x	-2	-1	0	1	2
y	9	2	0	2	9

2. Построить график функции

$$y = \begin{cases} -2 & \text{при } -3 \leq x \leq 0, \\ x & \text{при } 0 < x \leq 2 \\ 3 & \text{при } 2 < x \leq 4 \end{cases}$$

▶ Вычислить $f(-2)$, $f(0,1)$, $f(-3/4)$, $f(3)$.

Задание

3. Сопоставить каждому графику функции формулу, с помощью которой эта функция задается

- 1) $y = \frac{3}{x}$
- 2) $y = -x^3$
- 3) $y = -x + 2$
- 4) $y = 2x + 3$
- 5) $y = -\frac{2}{x}$
- 6) $y = x^3$
- 7) $y = 0,8x$
- 8) $y = \sqrt{x}$
- 9) $y = -x - 3$
- 10) $y = -x^2$
- 11) $y = -2x$
- 12) $y = 5$

